

1. Bu testte Türkçe alanına ait 20 soru bulunmaktadır.

2. Cevaplarınızı cevap kâğıdında Türkçe testi için ayrılan kısma işaretleyiniz.

1. • Yıllar süren eğitim hayatının ardından devlet kapısında iş bulabildi.  
• İş bulmak amacıyla çalmadık kapı bırakmamıştı.  
• Evdeki her arıza başka bir masraf kapısı açıyordu.  
• Çitalardan yapılmış bu tahta kapı geniş bir bahçeye açılıyordu.

“Kapı” sözcüğü bu cümlelerde aşağıdaki anlamlarından hangisiyle kullanılmamıştır?

- A) Bir yere girilip çıkılırken içinden geçilen yer  
B) Geçim sağlamak için çalışılan yer  
C) Gidere yol açan gereksinim  
D) Ev gezmesi için gidilen yer

2. Sesini enginlerden getirdi mavi sular;  
Mavi sular bu sabah bir cihan getiriyor.  
Sevincinden ağlayan, gülen, haykıran rüzgâr  
Kalelere sevinç, umut ve inan getiriyor.

Bu şiirde aşağıdaki söz sanatlarından hangisi yoktur?

- A) Kişileştirme  
B) Abartma  
C) Konuşturma  
D) Tezat

3. Başarı, “Buraya kadarmış.” diye düşünülen noktanın bir adım ötesindedir.

Aşağıdakilerden hangisi bu cümleye anlamca en yakındır?

- A) Başarı, pes etmeyi düşündüğünüz andan sonra gösterdiğiniz çaba ile gelir.  
B) Başarı basamaklarını tırmanırken karşılaşılan engeller, kararlı insanların azmini artırır.  
C) Başarı, hayal kırıklıklarına rağmen pes etmediğinizde elde ettiğiniz sonuçtur.  
D) Başarmak için yapmanız gereken, kendinize güvenmek ve adım adım ilerlemektir.

4. Para, patates, çay, çorba, robot, internet, müzik gibi her gün kullandığımız yüzlerce kelimenin ne zaman, nasıl ve nereden gelip de hayatımıza girdiğini hiç merak ettiniz mi? Bugün bizim için vazgeçilmez olan birçok kelime, bir zamanlar bir yerlerde bulunmuş şeyler için yakıştırılmış isimlerdi. Mesela “şampuan” Hindistan’dan, “kahve” Etiyopya’dan, “timsah” Mısır’dan gelip girmiş sözlüğümüze.

Altı çizili deyim bu cümleye kattığı anlam aşağıdakilerin hangisinde vardır?

- A) Son projesini hayata geçirmek için çok çalıştı.  
B) Yaşamımızda yer alan her yenilik merak etmekle başlar.  
C) Lisedeki edebiyat öğretmenini yaşamında büyük izler bırakmıştı.  
D) Hayatıyla ilgili önerilerde bulunarak her kararıma katkı sağlıyordu.

5. Paranın hikâyesinin başlangıç ve gelişme yeri Türkiye. Çünkü Lidyalılar bugünkü Batı Anadolu topraklarında yaşıyordu ve herkes için ortak anlam taşıyan değerli bir maden parçası icat etti. Altın ve gümüşleri çekiçle darbederek küçük paralar yaptılar. Artık bir inek almak isteyen, ne kadarsa onu ödeyecek, bunun için yirmi horoz vermek zorunda kalmayacaktı. Para yapımı için kullanılan madenler çekiçle darbedildiği için de para basılan yerlere darphane denildi. Anadolu tarihindeki en büyük darphanelerden birini de İstanbul'un fethinden sonra Fatih Sultan Mehmet 1467'de kurdu.

**Bu parçayla ilgili,**

- I. Betimleyici anlatım vardır.
- II. Bir durum gerekçesi ile verilmiştir.
- III. Benzetmeye başvurulmuştur.
- IV. Karşılaştırma yapılmıştır.

**yargılarından hangileri doğrudur?**

- A) I ve II                      B) I ve III  
C) II ve IV                     D) III ve IV

6. İklim değişikliği dünya genelinde sıcaklık ortalamalarının yükselmesine neden olan önemli bir sorundur. Fosil yakıtların yoğun kullanımı, ormansızlaşma ve sanayileşme gibi etkenler atmosferdeki sera gazı miktarını artırarak küresel ısınmaya yol açmaktadır. Dünya Meteoroloji Örgütü verilerine göre küresel ortalama sıcaklıklar sanayi öncesi dönemin yaklaşık 1,5°C üzerine yaklaşmaktadır. Bu durum kutuplardaki buzulların erimesi, deniz seviyelerinin yükselmesi ve sıra dışı hava olaylarının artmasına sebep olmaktadır.

**Bu parça aşağıdaki metin türlerinden hangisine örnektir?**

- A) Fıkra (Köşe yazısı)  
B) Makale  
C) Deneme  
D) Roman

7. • Akıllı şehir, ekosistem varlıklarına sürdürülebilir ve kapsayıcı bir gelecek sunmayı amaçlıyor.  
• Akıllı şehir, yaşam kalitesini artırmak için bilgi ve iletişim teknolojilerini kullanır.  
• Türkiye, kendine özgü Akıllı Şehir Olgunluk Değerlendirme Modeli oluşturmuştur.

**Bu cümlelerin anlamca doğru bir biçimde birleştirilmiş hâli aşağıdakilerden hangisidir?**

- A) Bilgi ve iletişim teknolojilerini sürdürülebilir ve kapsayıcı bir gelecek sunmak için kullanan akıllı şehirlerin yaşam kalitesini artırmayı amaçlayan Türkiye, kendine özgü sürdürülebilir Akıllı Şehir Olgunluk Değerlendirme Modeli oluşturmuştur.  
B) Yaşam kalitesini artırmayı amaçlayan bilgi ve iletişim teknolojilerini kullanarak kendine özgü Akıllı Şehir Olgunluk Değerlendirme Modeli oluşturan Türkiye, ekosistem varlıklarına sürdürülebilir ve kapsayıcı bir gelecek sunmayı amaçlıyor.  
C) Yaşam kalitesini artırmak için bilgi ve iletişim teknolojilerini kullanarak ekosistem varlıklarına sürdürülebilir ve kapsayıcı bir gelecek sunmayı amaçlayan akıllı şehir için Türkiye, kendine özgü Akıllı Şehir Olgunluk Değerlendirme Modeli oluşturmuştur.  
D) Kendine özgü Akıllı Şehir Olgunluk Değerlendirme Modeli oluşturan Türkiye, ekosistem varlıklarına sürdürülebilir ve kapsayıcı bir gelecek sunmak için yaşam kalitesini artırarak bilgi ve iletişim teknolojilerini kullanmayı amaçlamıştır.

8. Tarihin yalnızca savaşlar ve krallıklarla ilgilendiği düşüncesi oldukça yaygındır. Oysa tarih; geçmişte yaşayan sıradan insanların gündelik yaşamlarını, inançlarını, alışkanlıklarını ve çevreyle kurdukları ilişkileri de inceler. Bir evin mutfağında bulunan kap kacak, bir pazar yerinde kullanılan ölçü birimi ya da eski bir defterde yazılı alışveriş listesi tarihçiye toplumun yaşam biçimi hakkında önemli ipuçları verebilir. Bu yönüyle tarih sadece büyük olayların değil küçük ayrıntıların da bilgisidir.

**Bu metinde asıl anlatılmak istenen aşağıdakilerden hangisidir?**

- A) Tarihçiler büyük olayları günlük yaşamdan yola çıkarak yorumlar ve bilgiye ulaşırlar.
- B) Tarihî gelişim süreci, büyük toplumsal olayların bireysel yaşamlar üzerindeki etkilerini temel alır.
- C) Gündelik yaşamın ipuçları olan belgeler tarih bilgisinin en önemli unsurlarındandır.
- D) Tarihsel bilgi, geçmişin büyük olayları ile gündelik yaşamın detayları arasında şekillenir.

9. Mercekler, cam ya da plastik gibi ışığı geçirebilen malzemelerden yapılır. Küresel yüzeylere sahiptir, ışığın kırılmasını sağlar ve yönünü değiştirir. Böylece içinden geçen paralel ışınlar merceğin türüne göre birbirinden uzaklaşır ya da birbirine yaklaşır. Bu durum mercekten bakılan nesnelerin gerçek boyutundan farklı görünmesine neden olur. Gözlük, büyüteç, mikroskop, dürbün, fotoğraf makinesi, teleskop gibi nesneleri daha net ya da yakın görmemizi sağlayan pek çok aygıtta mercek vardır.

**Bu parçadaki altı çizili ifadeyle aşağıdakilerden hangisine gönderme yapılmıştır?**

- A) Merceklerin, ışığı geçirebilen malzemelerden yapılmasına
- B) Işınların izlediği yolun mercek türüne göre değişmesine
- C) Işığın saydam ortamlardan geçerken hızının değişmesine
- D) Mercekten bakılan nesnelerin gerçeğinden farklı görünmesine

10. Günlük yaşamınızda “zaman” sözcüğünü pek çok kez kullanmış ya da duymuşsunuzdur. “Zamanımız az kaldı, her zaman bekleriz, zamanım olsa yapardım, uyku zamanın geçiyor...” Masalların başında “Evvvel zaman içinde...” sözleri mutlaka tekrar eder. Peki, nedir bu zaman? Zaman ölçülebilir mi? Zaman, ne zaman gerçekten kıymetlidir? Sen, yapmak istediklerin için yeterli zamana sahip misin? Zamanı anlamak bir anlamda yaşamı da anlamak demektir. Yaşadıklarını, olayların akışını, dünü anlayabilmek; bugünü ve geleceği planlayabilmek için zamanı anlamak önemlidir.

**Aşağıdakilerden hangisi bu parçada sorulan sorulardan birine cevap olamaz?**

- A) Zamanın yapmak istediklerimle doldurabileceğim yeterince cebi vardır.
- B) Zaman siz zamanın değerini gerçekten bildiğinizde değer kazanır.
- C) Zaman, büyüklüğü ile sonsuzluğa uzanarak, küçüklüğü ile sonsuz parçalara bölünerek ölçülebilir.
- D) Zaman tüm evrende aynı hızda ilerler, herhangi bir referans noktasına göre değişmez.

11. (I) El yazısıyla yazmak bazen zor, sıkıcı ya da yavaş gelebildiğinden dijital aygıtlarla yazmak el yazısının yerini almaya başlıyor. (II) Yazarken el yazısı ve klavye kullanan üniversite öğrencilerinin beyin hücreleri arasında gerçekleşen etkinlikler incelendi ve elde edilen veriler karşılaştırıldı. (III) El yazısında kasların çalışması ve anıların oluşumuyla ilgili beyin bölgeleri arasında daha fazla etkileşim olduğu ve bağlantı kurulduğu görüldü. (IV) Böylece harfleri şekillendirmek için karmaşık el hareketleri kullanmanın, basit parmak hareketleriyle klavye tuşlarına basmaktan daha önemli olduğu ortaya çıktı.

**Bu metindeki numaralanmış cümlelerle ilgili aşağıdakilerden hangisi söylenemez?**

- A) I. cümlede dijital aygıtlarla yazmanın güvenilirliğinden bahsedilmiştir.
- B) II. cümlede yazma şeklinin öğrenciler üzerindeki etkisinin incelendiği ifade edilmiştir.
- C) III. cümlede el yazısı sayesinde beyin bölgeleri arasında etkileşimin arttığı ifade edilmiştir.
- D) IV. cümlede elle yazmak ve klavye kullanmak karşılaştırılmıştır.

12. (I) Çocuklar genellikle dağa maden rezervi olarak bakmazlar. (II) Aynı şekilde bir çiçek olan gül söz konusu olduğunda ondan ne kadar koku çıkacağını hesaplamak yerine, onu koklayarak kavramaya uğraşırlar. (III) Onlar için dünya, karşıda duran, izledikleri bir nesne değildir. (IV) Zaten bir çocuğun hayal gücü, gerçekliğin dar kalıplarına sığmayacak kadar uçsuz bucaksızdır. (V) Çocuklar çerçevelenmiş, ölçülebilir, hesaplanabilir bir dünya resminin ötesinde hayata bakarlar.

**Bu metindeki numaralanmış cümlelerden hangisi düşüncenin akışını bozmaktadır?**

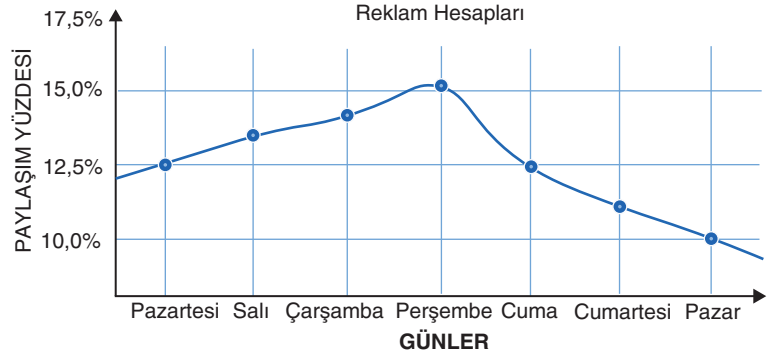
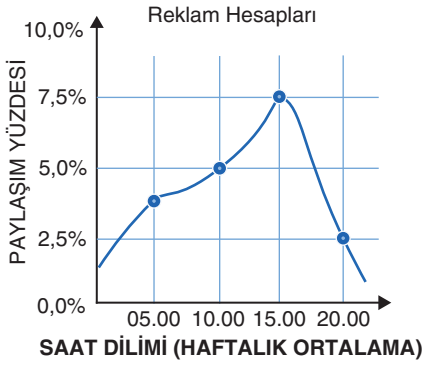
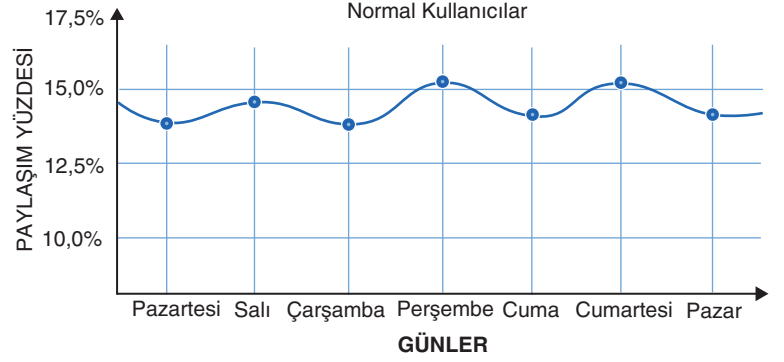
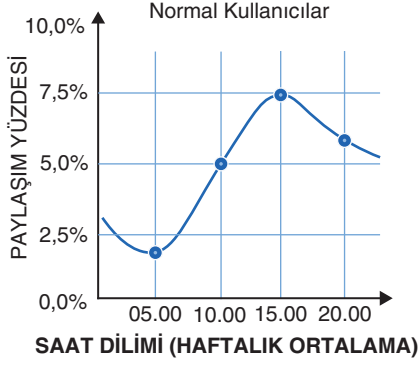
- A) II      B) III      C) IV      D) V

13. Madenî paralar gibi rögar kapakları da yuvarlaktır. İkisinde de daire şeklinin tercih edilmesindeki mantık aynıdır. Sivri köşelere sahip cisimler çabuk kırılıp yıpranır. Üstelik sivri kısımlar, insanların uzuvlarına da daireye göre daha fazla zarar verir. Tüm bunların yanı sıra bu seçimde dairenin kusursuzluğu, uyumu ve dengenin simgesi olarak kabul edilmesinin de rolü büyüktür. Yuvarlak cisimlerin yerlerine yerleştirilmeleri daha kolaydır fakat kareyi ya da bir altıgeni ait olduğu kısma ilk denemede oturtmak çok zordur. Hele de rögar kapağının ağırlığı düşünülürse...

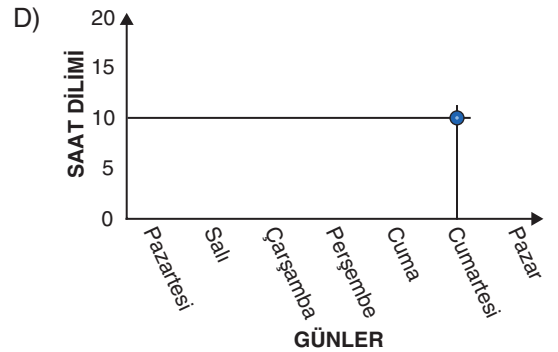
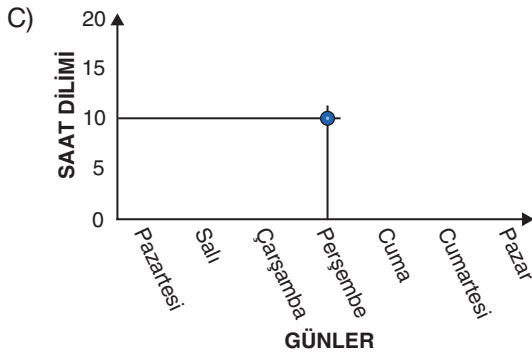
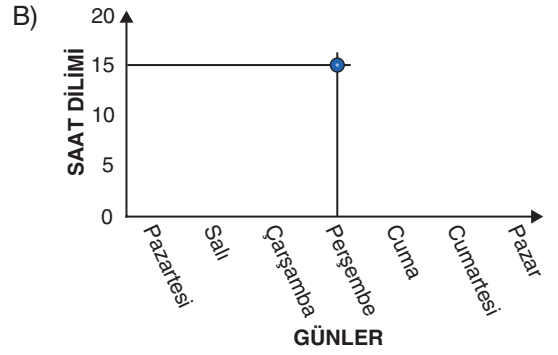
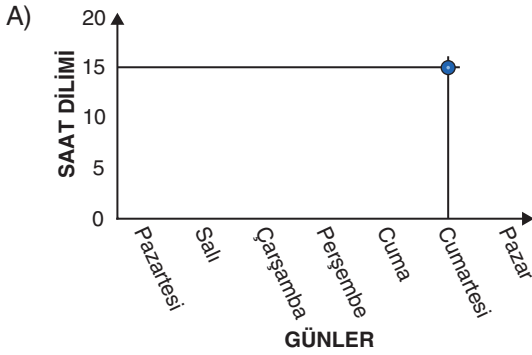
**Bu metne göre hangisi rögar kapaklarında daire şeklinin tercih edilme sebeplerinden değildir?**

- A) Yerine yerleştirilmesinin kolay olması  
B) Çabuk kırılıp yıpranmaması  
C) İnsanlara zarar verme olasılığının düşük olması  
D) Ağırlığının diğerlerine göre az olması

14. Aşağıdaki grafiklerde normal kullanıcıların ve reklam hesaplarının sosyal medya kullanımları gösterilmektedir.



Buna göre tüm kullanıcıların paylaşım yüzdesinin en fazla olduğu saat ve günü gösteren grafik hangisidir?



15. Dilimiz - konuşma dilimizden çok yazı dilimiz - yüzyılı aşkın bir zamandan beri durmadan değişiyor. Değişmesini bir dileyen oldu, bir buyuran oldu diye değil değişmesi gerektiği için, değiştirmek zorunda olduğumuzdan, içimizden geldiği için değişiyor. Bu değişme bir bakıyorsunuz hızlanıyor, çok kimseleri şaşırtacak ve başlarını döndürecek kadar hızlanıyor; bir bakıyorsunuz ağırlaşıyor, artık duracak sanıyorsunuz ama durmuyor. Durdurmak kimsenin elinde değil.

**Bu sözleri söyleyen kişi aşağıdakilerden hangisi ile nitelendirilebilir?**

- A) Tutucu                      B) Kararlı                      C) Teslimiyetçi                      D) Kaygılı

16. Aşağıda bir dergiye yapılan makale başvuru sayıları ve kabul edilme oranları verilmiştir.

Yıl	Kabul Edilen Makale Sayısı	Reddedilen Makale Sayısı	Kabul Oranı	Ret Oranı
2025	12	0	%100	%0
2024	10	4	%71	%29
2023	9	2	%82	%18
2022	6	0	%100	%0

**Buna göre aşağıdakilerin hangisi doğrudur?**

- A) Başvuru sayısı arttıkça makalelerin reddedilme oranı da artmıştır.  
B) Başvuru sayısının en fazla olduğu yıl, ret oranının da en yüksek olduğu yıldır.  
C) 2022 yılından 2025 yılına doğru gidildikçe makale kabul oranı sürekli azalmıştır.  
D) Kabul oranının en yüksek olduğu yıllar, başvuru sayısının en yüksek olduğu yıllardır.

17. I. Ülkemizin ilerlemesi için gece gündüz çalışırsak daha iyi yerlere gelir.  
II. Kitabın dizgisindeki yanlışlıklar düzeltilecek ve yeniden basılacak.  
III. İnsan bilgi sahibi olmadığı konularda fikir beyan etmesi yanlıştır.  
IV. Bugün okula gidip okul kütüphanesinden kitap alınacak.

**Numaralanmış cümlelerin hangilerinde aynı tür anlatım bozukluğu vardır?**

- A) I ve II                      B) I ve IV  
C) II ve III                    D) III ve IV

18. (I) Tropikal bölgeler, Ekvator'a yakın olan bölgelerdir. (II) Bu bölgelerde yalnızca iki mevsim yaşanır: yağışlı mevsim ve kurak mevsim. (III) Kurak mevsimde hayvanların yiyecek ve su bulmak için üç bin kilometre yol gittikleri bile olur. (IV) Örneğin Kral Kelebeği sürüleri, yaz mevsimini daha serin olan Kanada'da geçirmek için kilometrelerce uçar.

**Bu parçada numaralanmış cümlelerin hangisinde yazım yanlışı yapılmıştır?**

- A) I                      B) II                      C) III                      D) IV

19. Her ülkenin, her şehrin belirli bir coğrafi alanı bulunurken şairin gönül coğrafyasının sınırları gökyüzü kadardır.

**Bu cümlenin türüyle ilgili aşağıdakilerden hangisi doğrudur?**

- A) Yüklemine göre devrik cümledir.  
B) Yüklemine göre isim cümlesidir.  
C) Yapısına göre bağlacı olan cümledir.  
D) Anlamına göre olumsuz cümledir.

20. Çocuklar bahçede oynarken birden gökyüzünde kara bulutlar belirdi ( ) Rüzgâr hızla esmeye başladı ( ) Sanırım yağmur yağacak ( ) dedi Ayşe telaşla ( ) Tam o sırada gök gürlemesini mi ( )

**Bu metinde yay ayrıçla ( ) boş bırakılan yerlere sırasıyla aşağıdaki noktalama işaretlerinden hangileri getirilmelidir?**

- A) (.) (.) (.) (.) (?)  
B) (.) (.) (.) (!) (.)  
C) (.) (.) (!) (.) (?)  
D) (.) (.) (.) (.) (.)